



ねん くみ なまえ ()

三角形と四角形

1 に あてはまる ことばや 数を かきましょう。

(1)  本の  で かこまれた形を 三角形といいます。

(2) まっすぐな ^{せん}線を  といいます。



2 4つの点を つぎの じゅんばんに むすぶと どんな形ができるでしょう。

(1) ア→イ→ウ→エ→ア ア
・
エ
・
ウ
()

(2) ア→イ→エ→ア ・
イ
()

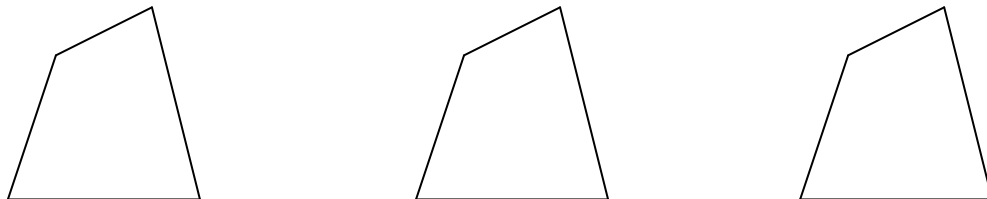
3 点と 点を ^{ちよく}直線で むすんで 三角形と 四角形を 1つ つくりましょう。

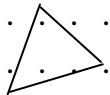
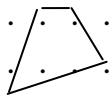
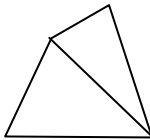
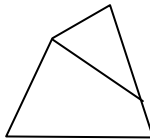
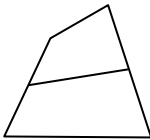
(1) 三角形 (2) 四角形

4 直線を 1本 引いて つぎの 形を つくりましょう。

(1) 三角形を2つ (2) 三角形と四角形 (3) 四角形を2つ



1. (1) 3, 直線	3. (1)	(2)	4. (れい) (1)	(2)	(3)
(2) 直線					
2. (1) 三角形					
(2) 四角形					