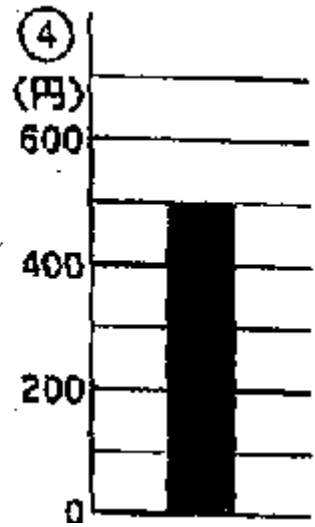





年 組 名 前 ()


① 1目もりはいくらを表しますか。また、グラフを読みなさい。



1目もり () () () ()

グラフ () () () ()

② 形と色べつに右の表にまとめましょう。



	□	○	△	合計
白				
黒				
合計				

① ①1m、9m ②20人、160人 ② 白：5、8、7、20、 黒：5、5、5、15

③5ℓ、25ℓ ④100円、500円 合計：10、13、12、35