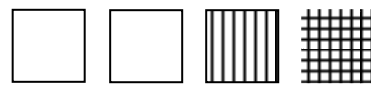


年 組名前 ( )

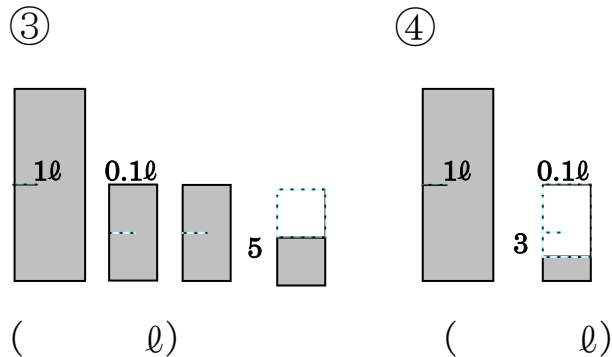
ステップ  
ミニプリ **⑤小数のしくみ**

☆ □を1として、次の数をぬりましょう。

① 1.32 

② 2.09 


☆ 次のかさは何1でしょう。



ステップ  
ミニプリ **⑥小数のしくみ**

☆ □の中にあてはまる数をかきましょう。

①  $4.23$



$1 \times \square$     $0.1 \times \square$     $0.01 \times \square$

②

$$13.67 = \square \times 1 + \square \times 3$$

$$+ \square \times 6 + \square \times 7$$

